

756

ТЕСТОВЫЕ ЗАДАНИЯ

Муниципальный этап Всероссийской олимпиады по технологии
в номинации «Культура дома и декоративно-прикладное творчество»

7 класс
2017 год

Время выполнения теста 90 мин.

105

1. Отметьте знаком «+» все возможные правильные ответы:

ТЕХНОЛОГИЯ – ЭТО НАУКА

- а) изучающая природные явления;
- б) изучающая исторические события;
- в) изучающая основы экономики;
- + г) изучающая преобразования материалов, энергии и информации.

1

2. Вставьте недостающие слова.

Воздействие техники на общество идет, прежде всего, через повышение _____, которое обуславливается развитием технических средств.

0

3. Выявите соответствие профессии данным ниже определениям. Заполните таблицу.

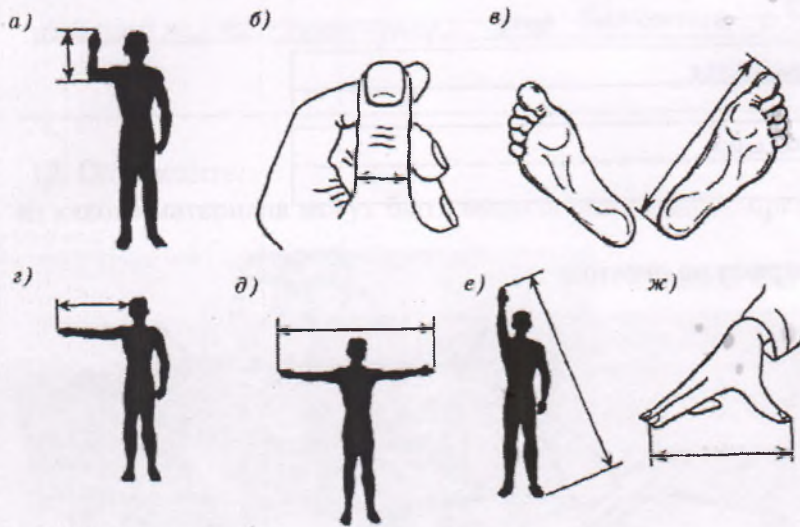
- А) Приём сырья и его переработка, приготовление различных блюд и их оформление.
- Б) Обмер заказчика, раскрой изделия, примерка.
- В) Создание художественного образа с целью воздействовать на зрителя, вызвать у него ответную реакцию.
- Г) Продвижение и реализация продукции на рынке.

Закройщик, повар, менеджер, актёр

1

А	Повар
Б	Закройщик.
В	актёр
Г	менеджер

4. Напротив каждой буквы впишите соответствующую меру длины.




- Косая сажень, е
- пядь, и
- дюйм, б
- фут, в
- ярд, г
- локоть, а
- сажень, з

1

5. Напишите вспомогательные способы подготовки продуктов для сокращения продолжительности тепловой обработки: бобовые, отдельные крупы, сушеные грибы замачивание в теплой воде, мясо измельчение.


6. Назовите прибор, изображенный на рисунке:



Швейная машинка

7. Назовите вид нитевого переплетения указанного на рисунке:

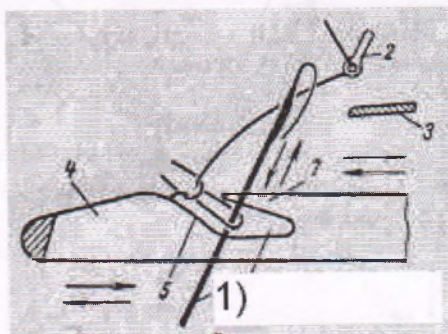
0



а	Талотинное
б	
в	Остигное
г	

8. Напишите название элемента 1 прямо на рисунке.

0



9. Впишите название представленного на рисунке воротника.

0



берет свое начало в испанской моде XVI века. Это широкий белый воротник, плотно облегающий шею. Воротник «
» шили, как правило, из тонкого полотна, делали складки и крахмалили. Иногда сажали на проволочный каркас.

10. Дайте название виду работ сделанной лазером, на текстильном материале, представленном на рисунке.

0




11. Опишите в нескольких словах, в чем состоит отличие терминов «Экстерьер» и «Интерьер».

1 Понятие интерьер это обустройство внутреннего пространства
каждого, а экстерьер это внешнее обустройство

12. Определите:

1) из какого материала могут быть выполнены изделия, представленные на рисунке;

0




2) какой вид шва использовался при их изготовлении.

1) фетр

2) _____

13. Опишите преимущества представленной формы кроя одежды («колокольчик») для девочек 2-4 лет.



Удобно ходить в одежде такой формы
Визуально удлиняет фигуру

14. Соотнесите, к какой культуре относятся украшения и элементы одежды

а	Индийцы	1	Меховая куртка с капюшоном
б	Индейцы Северной Америки	2	Татуировка, ожерелье из клыков и бус, набедренная повязка
в	Народы Севера России	3	Мокасины, головной убор из перьев, вампум
г	Славянские народы (Русь)	4	Сарафан, кокошник, гайтан
д	Племена Африки	5	Сари, множество браслетов, украшение на лбу

а	2
б	3
в	1
г	4
д	5

15. Назовите основные недостатки такого альтернативного источника энергии как «Ветровая энергоустановка».

Один из недостатков Ветровой энергоустановки в том, что если нет ветра, то она не работает.

16. Назовите минимум три вида работ в пищевой промышленности, которые можно доверить роботам.

Проверка продуктов на содержание опасных веществ. Термозатка остатков пищи. Взвешивание продуктов

17. Отметьте знаком «+» все правильные ответы. Каковы основные задачи семейной экономики?

- 0 +
1. Наиболее полное удовлетворение потребностей и желаний всех членов семьи.
 2. Рациональное использование всех семейных ресурсов.
 3. Планирование и экономия средств и времени.
 4. Ничего из вышеперечисленного

18. Раскройте смысл пословицы «Уговор дороже денег» с точки зрения предпринимательства.

1 смысл этой пословицы в том, что уговор, который есть гарант быть выполнен обязательно и деньги не могут «разорвать» его

19. Дайте название одному из волевых качеств личности согласно приведенному ниже определению.

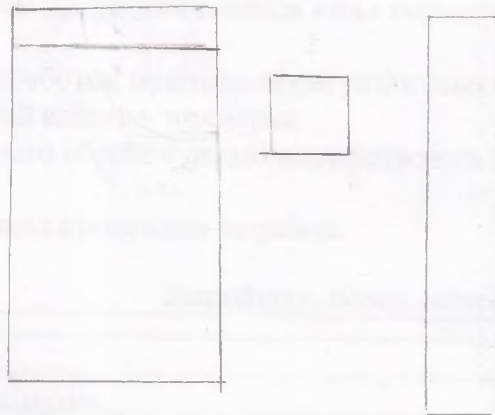
Степень осознанности и четкости представления цели, а также упорства, с которым преодолеваются препятствия при ее достижении - целеустремленность

20. Вы решили сшить фартук, остановив свой выбор на цельнокроеном фартуке с одним карманом. Какую потребность будет удовлетворять этот фартук?

Защитит от попадания грязи на одежду и удобен в работе

1. Нарисуйте модель, которую собираетесь сшить.

0



2. Какие материалы необходимы для изготовления фартука?

1 Ткань, нитки, выкройка

3. Какие инструменты и оборудование потребуются?

1 Швейная машинка, оверлок, иголки, ножницы, швейные иглы и машинные иголки

4. Опиши технологическую последовательность изготовления изделия.

2 Сначала нужно сделать выкройку; После этого надо пришить выкройку ткани и перевести ее. Далее вырезать и сшивать детали. Потом нужно прошить сшитые детали: обработать бока, нижний срез, пояс, карман