

ТЕСТОВЫЕ ЗАДАНИЯ

Муниципальный этап Всероссийской олимпиады по технологии
в номинации «Культура дома и декоративно-прикладное творчество»

7 класс

2017 год

Время выполнения теста 90 мин.

185

1. Отметьте знаком «+» все возможные правильные ответы:

ТЕХНОЛОГИЯ – ЭТО НАУКА

- а) изучающая природные явления;
- б) изучающая исторические события;
- в) изучающая основы экономики;
- г) изучающая преобразования материалов, энергии и информации.

2. Вставьте недостающие слова.

Воздействие техники на общество идет, прежде всего, через повышение _____
которое обуславливается развитием технических средств.




3. Выявите соответствие профессии данным ниже определениям. Заполните таблицу.





- А) Приём сырья и его переработка, приготовление различных блюд и их оформление.
- Б) Обмер заказчика, раскрой изделия, примерка.
- В) Создание художественного образа с целью воздействовать на зрителя, вызвать у него ответную реакцию.
- Г) Продвижение и реализация продукции на рынке.

Закройщик, повар, менеджер, актёр

А	Повар
Б	Закройщик
В	Актёр
Г	Менеджер

4. Напротив каждой буквы впишите соответствующую меру длины.


а) *локоть*  б) *дюйм*  в) *пядь* 

г) *арш*  д) *сажень*  е) *косая сажень*  ж) *фут* 

Косая сажень,
пядь,
дюйм,
фут,
ярд,
локоть,
сажень


5. Напишите вспомогательные способы подготовки продуктов для сокращения продолжительности тепловой обработки: бобовые, отдельные крупы, сушеные грибы замочить в воде, мясо разрезать на кусочки, если мясо заморожено - то сначала разморозить.

6. Назовите прибор, изображенный на рисунке:



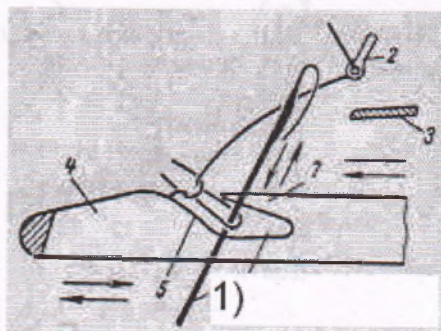
Швейная машина.

7. Назовите вид нитевого переплетения указанного на рисунке:



а	Тканьное
б	
в	Атласное
г	Чирчатый

8. Напишите название элемента 1 прямо на рисунке.



9. Впишите название представленного на рисунке воротника.



_____ берет свое начало в испанской моде XVI века. Это широкий белый воротник, плотно облегающий шею. Воротник «_____» шили, как правило, из тонкого полотна, делали складки и крахмалили. Иногда сажали на проволочный каркас.

10. Дайте название виду работ сделанной лазером, на текстильном материале, представленном на рисунке.



Лазер


11. Опишите в нескольких словах, в чем состоит отличие терминов «Экстерьер» и «Интерьер».

Интерьер - это внутренний декор и обстановка

Экстерьер - внешняя (или автомобиль)

12. Определите:

1) из какого материала могут быть выполнены изделия, представленные на рисунке;




2) какой вид шва использовался при их изготовлении.

1) Ткань, фетр

2) шов наружу (скрепляющий части)

13. Опишите преимущества представленной формы кроя одежды («колокольчик») для девочек 2-4 лет.



Этот крой одежды преимуществен в том, что маленькие дети делают много движений, а этот крой не будет сковывать их движения, делает фигуру ребенка длиннее, скрывает полноту ребенка.

14. Соотнесите, к какой культуре относятся украшения и элементы одежды

а	Индийцы	1	Меховая куртка с капюшоном	а	5
б	Индейцы Северной Америки	2	Татуировка, ожерелье из клыков и бус, набедренная повязка	б	3
в	Народы Севера России	3	Мокасины, головной убор из перьев, вапум	в	1
г	Славянские народы (Русь)	4	Сарафан, кокошник, гайтан	г	4
д	Племена Африки	5	Сари, множество браслетов, украшение на лбу	д	2

15. Назовите основные недостатки такого альтернативного источника энергии как «Ветровая энергоустановка».

От ветровой энергоустановки получают очень мало энергии, они не могут вырабатывать энергию всё время (только от ветра).

16. Назовите минимум три вида работ в пищевой промышленности, которые можно доверить роботам.

Варка кофе, чистка и обработка пищевых продуктов; мойка посуды.

17. Отметьте знаком «+» все правильные ответы. Каковы основные задачи семейной экономики?

1. Наиболее полное удовлетворение потребностей и желаний всех членов семьи.
2. +Рациональное использование всех семейных ресурсов.
3. +Планирование и экономия средств и времени.
4. Ничего из вышперечисленного

18. Раскройте смысл пословицы «Уговор дороже денег» с точки зрения предпринимательства.

1 С точки зрения предпринимательства эта пословица означает, что даже если ты и дал обещание, то его нужно сдерживать и исполнять, в противном случае дать деньги.

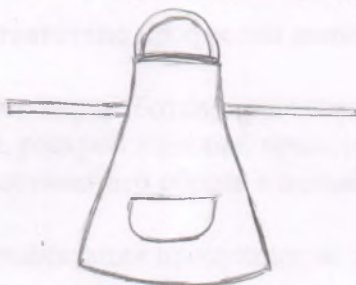
19. Дайте название одному из волевых качеств личности согласно приведенному ниже определению.

Степень осознанности и четкости представления цели, а также упорства, с которым преодолеваются препятствия при ее достижении - целеустремленность.

20. Вы решилишить фартук, остановив свой выбор на цельнокроеном фартуке с одним карманом. Какую потребность будет удовлетворять этот фартук?

Он будет защищать от грязи, в карман можно положить необходимые предметы.

1. Нарисуйте модель, которую собираетесьшить.



2. Какие материалы необходимы для изготовления фартука?

1 Ткань (хлопчатобумажная); ленты (для лямок); нитки; для чертёжной работы будет масштабная бумага; так же понадобятся ^{еще} мел, карандаш.

3. Какие инструменты и оборудование потребуются?

1 Швейная машина, ножницы, булавки, иголки.

2. Опиши технологическую последовательность изготовления изделия.

2 1 Для начала создать чертёж (в масштабе и 1к1)
2 Приложить чертёж в масштабе 1:1 к ступенчатой ткани, прикрепить его.
3 Раскроить ткань; 4 Обработать все швы; 5. Пришить пояс и верхнее крепление
6. Пришить карман 7. Сшить изделие.